

# ಪೂರ್ವ ಮಾಧ್ಯಮಿಕ ಶಿಷ್ಯವೃತ್ತಿ ಪರೀಕ್ಷೆ (8 ನೇ ಇಯತ್ರೆ), ಫೆಬ್ರವರಿ 2023

ಆಸನ ಕ್ರಮಾಂಕ-

--	--	--	--	--	--	--	--	--	--

ಸಂಚ-



0 8 2 2

ಪೇಪರ್ ಕ್ರ - II

ಸಮಯ : 02:00 ರಿಂದ 03:30

ಮಾಧ್ಯಮ - ಕನ್ನಡ



ಒಟ್ಟು ಗುಣಗಳು : 150

ತೃತೀಯ ಭಾಷೆ ಮತ್ತು ಬುದ್ಧಿಮತ್ತೆ ಚಾಚಣಿ

ಪುಟಗಳು : 32

ಪ್ರಶ್ನೆ ಪತ್ರಿಕೆ ಬಿಡಿಸುವುದಕ್ಕಿಂತ ಮುಂಚೆ ಕೆಳಗಿನ ಸೂಚನೆಗಳು ಎಚ್ಚರಿಕೆಯಿಂದ ಓದಿರಿ.

- (1) ಈ ಪ್ರಶ್ನೆ ಪತ್ರಿಕೆಯಲ್ಲಿ ಎರಡು ವಿಭಾಗಗಳಿವೆ. ವಿಭಾಗ I ರಲ್ಲಿ ತೃತೀಯ ಭಾಷೆಯ 1 ರಿಂದ 25 ಪ್ರಶ್ನೆಗಳಿವೆ ಮತ್ತು ವಿಭಾಗ II ರಲ್ಲಿ ಬುದ್ಧಿಮತ್ತೆ ಚಾಚಣಿಯು 26 ರಿಂದ 75 ಪ್ರಶ್ನೆಗಳಿವೆ. ಹೀಗೆ 75 ಪ್ರಶ್ನೆಗಳು ಇದ್ದು ಎಲ್ಲ ಪ್ರಶ್ನೆಗಳು ಬಿಡಿಸುವುದು ಅವಶ್ಯಕವಾಗಿದೆ.
- (2) ಪ್ರತಿಯೊಂದು ಪ್ರಶ್ನೆಗೆ 2 ಗುಣಗಳಿವೆ.
- (3) ಪ್ರಶ್ನೆ ಪತ್ರಿಕೆ ಬಿಡಿಸಲು ಒಟ್ಟು 90 ನಿಮಿಷಗಳ ಕಾಲಾವಧಿ ಕೊಡಲಾಗಿದೆ.
- (4) ಉತ್ತರಗಳನ್ನು ನೋಂದಾಯಿಸುವ ಸಲುವಾಗಿ ಸ್ವತಂತ್ರ ಉತ್ತರ ಪತ್ರಿಕೆ ಕೊಡಲಾಗಿದೆ. ಪ್ರತಿಯೊಂದು ಪ್ರಶ್ನೆ ಕ್ರಮಾಂಕದ ಮುಂದೆ ನಾಲ್ಕು ಪರ್ಯಾಯವಿರುವ ವರ್ತುಗಳನ್ನು ಕೊಡಲಾಗಿದೆ. ಅದರಲ್ಲಿ ಯೋಗ್ಯ ಉತ್ತರವಿರುವ ಪರ್ಯಾಯ ಕ್ರಮಾಂಕವಿರುವ ವರ್ತುಗಳನ್ನು ಉದಾಹರಣೆಯಲ್ಲಿ ತೋರಿಸಿದಂತೆ ನೋಂದಾಯಿಸಿರಿ. ಉದಾ - ಪ್ರಶ್ನೆ ಕ್ರಮಾಂಕ 6 ರ ಉತ್ತರ 2 ಆದರೆ ಕೆಳಗೆ ತೋರಿಸಿದಂತೆ ವೃತ್ತವನ್ನು ಪೂರ್ಣವಾಗಿ ತುಂಬಿರಿ.  
ಉದಾ. ಪ್ರಶ್ನೆ ಕ್ರ. 6 - (1) (2) (3) (4)
- (5) ಕೆಳಗಿನಂತೆ ನೋಂದಾಯಿಸಿದ ಉತ್ತರಗಳ ಬಗ್ಗೆ ವಿಚಾರ ಮಾಡಲಾಗುವುದಿಲ್ಲ.  
(1) (2) (3) (4)
- (6) ಗರಿಷ್ಠ 20% ಪ್ರಶ್ನೆಗಳು ಎರಡು ಸರಿಯಾದ ಪರ್ಯಾಯಗಳನ್ನು ಹೊಂದಿವೆ. ಆ ಎರಡು ಪರ್ಯಾಯಗಳು ನೋಂದಾಯಿಸುವುದು ಅವಶ್ಯಕವಾಗಿದೆ, ಅದರ ಸಲುವಾಗಿ ಆ ಪ್ರಶ್ನೆಯ ಜೊತೆಗೆ ಯೋಗ್ಯವಾದ ಎರಡು ಪರ್ಯಾಯಗಳು ಆಯ್ಕೆ ಮಾಡಿರಿ ಎಂಬ ಸೂಚನೆ ಕೊಡಲಾಗಿದೆ.
- (7) ಯೋಗ್ಯವಾದ ಎರಡು ಪರ್ಯಾಯಗಳು ಆಯ್ಕೆ ಮಾಡಿರಿ ಹೀಗೆ ಸೂಚನೆ ಕೊಟ್ಟ ಪ್ರಶ್ನೆಯ ಹೊರತಾಗಿ ಉಳಿದ ಪ್ರಶ್ನೆಗಳಿಗೆ ಒಂದಕ್ಕಿಂತ ಹೆಚ್ಚು ವರ್ತುಗಳಲ್ಲಿ ನೋಂದಾಯಿಸಿದ ಉತ್ತರಗಳು, ತಿದ್ದುಪಡಿ ಮಾಡಿ ನೋಂದಾಯಿಸಿದ ಉತ್ತರಗಳು ಗಮನಕ್ಕೆ ತೆಗೆದುಕೊಳ್ಳಲಾಗುವುದಿಲ್ಲ.
- (8) ಒಮ್ಮೆ ನೋಂದಾಯಿಸಿದ ಉತ್ತರ ಬದಲಾಯಿಸಲು ಬರುವುದಿಲ್ಲ.
- (9) ಪರ್ಯಾಯದ ಉತ್ತರ ಕ್ರಮಾಂಕಗಳನ್ನು ಕಪ್ಪು ಅಥವಾ ನೀಲಿ ಬಾಲ್ ಪೆನ್‌ನಿಂದ ನೋಂದಾಯಿಸಬೇಕು. ಪೆನ್‌ನಿಂದ ನೋಂದಾಯಿಸಿದ ಉತ್ತರಗಳ ಬಗ್ಗೆ ವಿಚಾರ ಮಾಡಲಾಗುವುದಿಲ್ಲ.
- (10) ಪ್ರಶ್ನೆ ಪತ್ರಿಕೆಯ ಪ್ರತಿಯೊಂದು ಪುಟದ ಕೆಳಗೆ ಮತ್ತು ಕೊನೆಯ ಪುಟದ ಮೇಲೆ ಕಚ್ಚಾಕೆಲಸಕ್ಕಾಗಿ ಖಾಲಿ ಸ್ಥಳವನ್ನು ಬಿಡಲಾಗಿದೆ ಅಲ್ಲಿಯೇ ಕಚ್ಚಾಕಾರ್ಯ ಮಾಡಬೇಕು.
- (11) ಪರೀಕ್ಷೆಗೆ ಮರ್ಯಾದಿತ ವೇಳೆ ಇರುವುದರಿಂದ ಒಂದು ಪ್ರಶ್ನೆಯ ಉತ್ತರ ನಿಮಗೆ ಬರದಿದ್ದರೆ, ಮುಂದಿನ ಪ್ರಶ್ನೆ ಬಿಡಿಸಿರಿ. ಕೊನೆಗೆ ವೇಳೆ ಇದ್ದರೆ ಉಳಿದಂತೆ ಪ್ರಶ್ನೆಗಳ ಬಗ್ಗೆ ಪುನಃ ಪ್ರಯತ್ನ ಮಾಡಿರಿ.
- (12) ಯಾವುದೇ ಪ್ರಶ್ನೆಯಲ್ಲಿ ತಪ್ಪು / ದೋಷಗಳಿದ್ದರೆ ಅದರ ಬಗ್ಗೆ ಪರ್ಯಾಯವೇಕೆ ಅಥವಾ ಪರೀಕ್ಷೆ ಕೇಂದ್ರ ಸಂಚಾಲಕರ ಕಡೆ ವಿಚಾರಣೆ ಮಾಡಬಾರದು.
- (13) ಪ್ರಶ್ನೆಯಲ್ಲಿಯ ಯಾವುದೇ ದೋಷ/ತಪ್ಪು/ ಆಕ್ಷೇಪಣೆ ಬಗ್ಗೆ ನಿಮ್ಮ ಲಿಖಿತ ನಿವೇದನೆಯನ್ನು ಶಾಲೆಯವರು ಅಥವಾ ಪಾಲಕರು ಗಟ್ಟಿಪಟ್ಟಾಧಿಕಾರಿ ಅಥವಾ ಶಿಕ್ಷಣಾಧಿಕಾರಿಯವರಿಗೆ ಲಿಖಿತ ಸ್ವರೂಪದಲ್ಲಿ ಕಳುಹಿಸದೇ ಸಂಬಂಧಿತ ಶಾಲೆಯ ಲಾಗಿನ್‌ನಿಂದ ಆನ್‌ಲೈನ್ ನೋಂದಾಯಿಸಬೇಕು.
- (14) MSCE ವೆಬ್‌ಸೈಟ್‌ನಲ್ಲಿ (ಮಧ್ಯಂತರ) ಕೊನೆಯ ಉತ್ತರ ಸೂಚಿ ಪ್ರಕಟಿಸಿದ 10 ದಿನಗಳಲ್ಲಿ ದೋಷ/ತಪ್ಪು/ಆಕ್ಷೇಪಣೆ/ಸಮಸ್ಯೆಗಳನ್ನು ಆನ್‌ಲೈನ್‌ನಲ್ಲಿ ನೋಂದಾಯಿಸಬೇಕು.
- (15) ಮುದ್ರಣ ದೋಷ ಅಥವಾ ಅನ್ಯ ಕಾರಣಗಳಿಂದ ಪ್ರಶ್ನೆ ತಪ್ಪು ಎಂದು ಕಂಡು ಬಂದರೆ ತಜ್ಞ ಸಮಿತಿಯ ಅಭಿಪ್ರಾಯಕ್ಕೆ ಅನುಸಾರವಾಗಿ ಅದನ್ನು ರದ್ದು ಮಾಡಲಾಗುವುದು.
- (16) ಮೂಲ ಕನ್ನಡ ಮಾಧ್ಯಮದ ಜೊತೆಗೆ ಇಂಗ್ಲಿಷ್ ಭಾಷೆಯಲ್ಲಿ ಪ್ರಶ್ನೆ ಪತ್ರಿಕೆ ಕೊಡಲಾಗಿದೆ, ಮೂಲ ಕನ್ನಡ ಮಾಧ್ಯಮದಲ್ಲಿಯ ಸಂದಿಗ್ಧ ಪ್ರಶ್ನೆಯ ಬಗ್ಗೆ ಇಂಗ್ಲಿಷ್ ಪ್ರಶ್ನೆ ನೋಡಿರಿ.

**Section - I**

**English**

01. Choose the correct option for the underlined part of the following.  
Charuta wants to decorate her bungalow. For that purpose, she visited a person who is master in beautifies the inside of a house.
- (1) building contractor (2) merchant  
(3) sailor (4) interior decorator
02. Read the sentence and recognize its type by choosing the correct option.  
Bind up the wound with a bandage.
- (1) Exclamatory Sentence (2) Imperative Sentence  
(3) Interrogative Sentence (4) Assertive Sentence
03. Fill in the blank by choosing the correct option for the correct conjunction.  
He worked hard to sell the wood in the morning \_\_\_\_\_ grains in the evening.
- (1) because (2) so (3) and (4) since
04. Choose the correct alternative to complete the following set of words.

D	P	T	H	L	P	S
A	I	S	C	A	T	Q
P	H	W	R	T	O	S
L	M	E	A	E	P	I
B	A	E	C	L	Y	Z
S	I	T	K	A	I	G
A	B	S	E	M	H	V
A	O	C	R	P	W	P
S	T	M	S	Q	N	P

- (1) decoration (2) relatives (3) crackers (4) cloths

**SPACE FOR ROUGH WORK**

05. Select one correct option for the underlined word to make it opposite of it. If you do not wake up early in the morning, you are \_\_\_\_\_ for school.  
(1) late (2) early (3) perfect (4) in
06. Choose the correct alternative that shows the correct meaning of the underlined words.  
They received the president of the college with open arms.  
(1) with someone's presence (2) with excellent work  
(3) with fear (4) with warm welcome

**Instruction for Q. 07, Q. 08 and Q. 09 -**

Read the passage and choose the correct alternative.

Many years ago, at the foothills of the kaatskill (kat-skill) mountains, was a little village. In the village lived a simple, good-natured fellow named Rip Van Winkle. He was a kind neighbour, ready to help anyone. Everyone in the village liked him. The children of the village shouted with joy whenever they saw him because he played with them, he taught them to fly kites and shoot marbles and told them long stories.

The only problem with Rip was that he was very lazy. He did no work on his own farm and just idled away his time. His fences were falling to pieces. His cow was going astray. Weeds grew on his farm. Rip's constant companion was his dog, named Wolf. To avoid work, he would walk away into the forest with his dog.

07. What did Rip Van Winkle teach to the children? (Choose any 2 answers)  
(1) to write poems (2) to fly kites  
(3) to tell stories (4) to shoot marbles
08. Who was wolf ?  
(1) boy (2) wolf (3) dog (4) villager
09. Match the pairs.
- | A            | B                    |
|--------------|----------------------|
| 1) fences    | a) going astray      |
| 2) cow       | b) falling to pieces |
| 3) weeds     | c) mountains         |
| 4) kaatskill | d) grow on farms     |
- (1) 1-b; 2-a; 3-d; 4-c (2) 1-c; 2-d; 3-a; 4-b  
(3) 1-d; 2-a; 3-b; 4-c (4) 1-a; 2-b; 3-c; 4-d

**SPACE FOR ROUGH WORK**

10. Read the following pairs of homophones and find out a pair which is not a homophone. Choose any one correct option.

- (1) Steel - still (2) though - thought  
(3) main - mane (4) right - write

11. Observe the following website and choose the correct option for the given question.

महाराष्ट्र शासन Government of Maharashtra SKIP TO MAIN CONTENT ENGLISH

नाशिक जिल्हा NASHIK DISTRICT Digital India

HOME ABOUT DISTRICT CORONA VIRUS-COVID19 DIRECTORY DEPARTMENT TOURISM DOCUMENTS NOTICES MORE

HOME / DIRECTORY / PUBLIC UTILITIES / UNIVERSITIES / Maharashtra University of Health Science (MUHS)

**Maharashtra University of Health Science (MUHS)**  
Maharashtra Health Science University, Mhasrul, Vani Dindori Road, Nashik-422004.

Email: registrar[at]muhs[dot]ac[dot]in  
Phone: +2532539100  
Website: https://muhs.ac.in/  
Category/Type: University

What is the above website about?

- (1) Social Science (2) Mathematical Science  
(3) Environmental Science (4) Health Science

12. Choose the correct option for the indirect speech.

The mouse shouted, "Let me go".

- (1) The mouse shouted that to let him go.  
(2) The mouse shouted to let him go.  
(3) I shouted to let mouse go.  
(4) The mouse shouted that let me go.

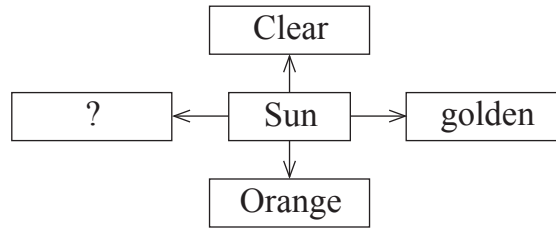
13. Find the meaningful word from the following jumbled letters.

EATRTHE

- (1) EARTHE (2) THROWING  
(3) THIEF (4) THEATRE

SPACE FOR ROUGH WORK

14. Fill in the blank by using comparative form of the verb.  
My car is quite slow and I want to get a \_\_\_\_\_ (fast) one.  
(1) faster (2) fastest  
(3) more fast (4) most fast
15. Choose two correct modal auxiliaries showing possibility in the following sentence.  
Rohan \_\_\_\_\_ write in his notebook.  
(1) could (2) must  
(3) can (4) should
16. Look at the following slogan and choose the correct option for the given question.  
'Each one-teach one'  
This slogan is used for \_\_\_\_\_.  
(1) Literacy awareness programme (2) Green revolution programme  
(3) Health awareness programme (4) Addiction awareness programme
17. Read the following sentence and choose the correct alternative.  
The door \_\_\_\_\_ by the teacher.  
(1) is being shutting (2) were being shut  
(3) are being shut (4) is being shut
18. Complete the web of adjective for the word given. Choose any one correct option.



- (1) bright (2) dim  
(3) black (4) dull

**SPACE FOR ROUGH WORK**

**Instruction for Q. 19 and Q. 20 -**

Read the news and choose the correct option.

**Seminar on Diabetes**

On 29<sup>th</sup> September, on the occasion of World Heart Day, New Vision School, Mumbai organized an interactive seminar for the parents of New Vision School. Dr. Sanjay Gupta, the Senior diabetologist was the main speaker for it. Approximately 152 parents attended the seminar. This seminar was organized by Doctors' Medical Association along with school.

**19.** Choose any one correct option for the given question.

The seminar was organized for \_\_\_\_\_.

- (1) all (2) teachers  
(3) students (4) parents

**20.** What kind of seminar was organized by the school?

- (1) recorded (2) vocal  
(3) interactive (4) written

**21.** Choose the correct option from the following which shows the pronouns.

Sun Wakang is brave and intelligent. But he is also a trickster. His body is as hard as diamond.

- (1) also, and (2) as, is  
(3) he, his (4) brave, intelligent

**22.** Choose the correct option to identify the tense of the underlined words.

The train has started before I reached the station.

- (1) past perfect (2) present perfect  
(3) present continuous (4) simple past

**SPACE FOR ROUGH WORK**

23. Choose the correct alternative from the following to complete the puzzle for the meaningful words.

C	H	E	?	T
	?			A
	N			M
				?

- (1) a                      (2) o                      (3) e                      (4) i

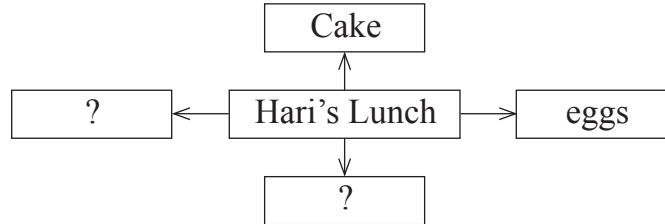
**Instruction for question no. 24 and 25.**

Read the passage and choose the correct alternative.

When they arrived at the seaside, out jumped all the children with a shout of joy. Down to the sands they raced, hand in hand - but Nobody took Hari's hand. Nobody went near him.

Hari was angry. He went to a sandy corner near a rocky pool and sat down by himself. He took out his lunch and looked at it. It was a good lunch. There were two hard-boiled eggs, six jam sandwiches, three pieces of bread and butter, a ginger cake, and a bar of chocolate. He would eat it all by himself. He wouldn't offer anything to anyone!

24. Complete the web by choosing 2 correct options.



- (1) bread and butter                      (2) juice  
(3) biscuits                                  (4) bar of chocolate

25. How was the pool?

- (1) sandy                      (2) narrow                      (3) deep                      (4) rocky

**SPACE FOR ROUGH WORK**

## SECTION - II

## INTELLIGENCE TEST

26. In the following number series, how many times two prime numbers follow each other consequently?

3 5 7 4 2 6 3 7 9 4 2 5 3 2 4 9 7 5 6 2 9

- (1) 8 (2) 6  
(3) 7 (4) 5

27. In the given alphabet series to get the word opposite in meaning of the word 'beautiful', which will be the correct order of numbers?

- (1) 21, 10, 25, 12 (2) 21, 7, 11, 25  
(3) 21, 7, 12, 25 (4) 12, 21, 8, 25

**Directions Q. 28 to 32.**

Find the odd term.

28. (1) talented (2) dull  
(3) intelligent (4) bright
29. (1) Potato (2) Ginger  
(3) Elephant foot (4) Sweet Potato
30. (1) 289 (2) 143  
(3) 221 (4) 187
31. (1) SUW (2) BCE  
(3) MQS (4) EGK

**SPACE FOR ROUGH WORK**



ABCDE	FGHIJ	KLMNO	PQRST	UVWXY
-------	-------	-------	-------	-------

ವಿಭಾಗ - II

ಗಣಿತ

26. ಕೆಳಗಿನ ಅಂಕಮಾಲೆಯಲ್ಲಿ ಹೊಂದಿಕೊಂಡು ಎರಡೂ ಮೂಲ ಸಂಖ್ಯೆಗಳಿವೆ. ಹೀಗೆ ಎಷ್ಟು ಸಲ ಬಂದಿದೆ? ಅಂಕಮಾಲೆ: - 3, 5, 7, 4, 2, 6, 3, 7, 9, 4, 2, 5, 3, 2, 4, 9, 7, 5, 6, 2, 9
- (1) 8 (2) 6  
(3) 7 (4) 5
27. ಪುಸ್ತಕ, ಪುಷ್ಪಭಾಗ, ಪೌರುಷ, ಪಾಲಕ, ಪೌರಾಣಿಕ, ಪೆಟ್ಟಿಗೆ ಪೋಲಿಸ ಈ ಶಬ್ದಗಳನ್ನು ವರ್ಣಾನುಕ್ರಮದಲ್ಲಿ ಬರೆಯಲಾಗಿ ಮಧ್ಯಭಾಗದಲ್ಲಿ ಬರುವ ಶಬ್ದ ಯಾವುದು?
- (1) ಪೌರಾಣಿಕ (2) ಪುಷ್ಪಭಾಗ  
(3) ಪೆಟ್ಟಿಗೆ (4) ಪೌರುಷ


ಪ್ರಶ್ನೆ ಕ್ರಮಾಂಕ 28 ರಿಂದ 32 ರ ಸಲುವಾಗಿ ಸೂಚನೆ:

ಗುಂಪಿಗೆ ಸೇರದ ಪದವನ್ನು ಗುರುತಿಸಿರಿ.

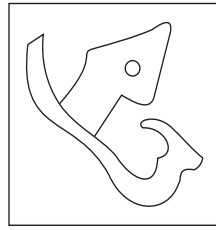
28. (1) ಗಗನ (2) ಧರಣಿ  
(3) ಆಕಾಶ (4) ಅಂಬರ
29. (1) ಬಟಾಟೆ (2) ಶುಂಠಿ  
(3) ಸುವರ್ಣಗಡ್ಡೆ (4) ಗೆಣಸು
30. (1) 289 (2) 143  
(3) 221 (4) 187
31. (1) SUW (2) BCE  
(3) MQS (4) EGK

ಕೇವಲ ಕಚ್ಚಾ ಕೆಲಸಕ್ಕಾಗಿ

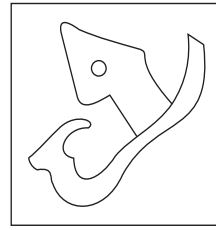
32.



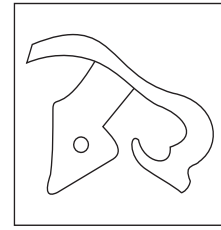
(1)



(2)

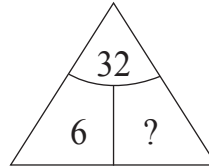
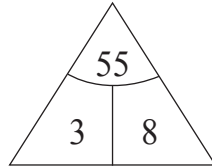
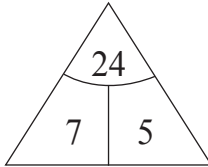


(3)



(4)

33. Find out the rule underlying the arrangement of numbers in the following question and choose the correct alternative that will replace the question mark.



(1) 4

(2) 1

(3) 3

(4) 2

34. Observe the numbers given in the following square and choose the correct alternative to replace the question mark. [Choose two correct alternatives]

35	28	13
17	?	52
62	43	22

(1) 73

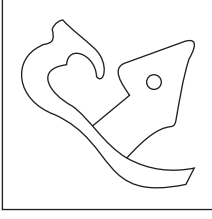
(2) 85

(3) 8

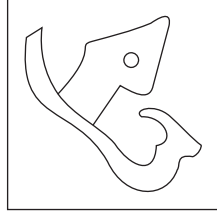
(4) 10

**SPACE FOR ROUGH WORK**

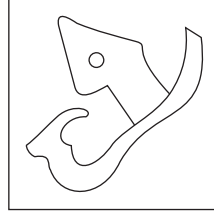
32.



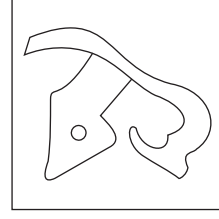
(1)



(2)



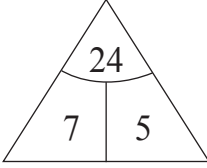
(3)



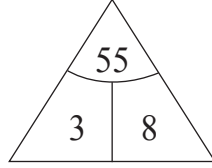
(4)

33.

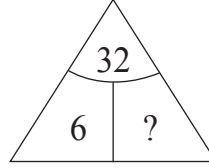
ಕೆಳಗಿನ ಪ್ರಶ್ನೆಯಲ್ಲಿ ಪ್ರಶ್ನೆಚಿಹ್ನೆಯ ಸ್ಥಳದಲ್ಲಿ ಬರುವ ಸಂಖ್ಯೆ ಯಾವುದು?



(1) 4



(2) 1



(3) 3

(4) 2

34.

ಕೆಳಗಿನ ಚೌಕಟ್ಟಿನಲ್ಲಿ ಪ್ರಶ್ನೆಚಿಹ್ನೆಯ ಸ್ಥಳದಲ್ಲಿ ಬರುವ ಸಂಖ್ಯೆ ಯಾವುದು? (ಸರಿಯಾದ ಎರಡು ಪರ್ಯಾಯಗಳನ್ನು ಆರಿಸಿರಿ)

35	28	13
17	?	52
62	43	22

(1) 73

(2) 85

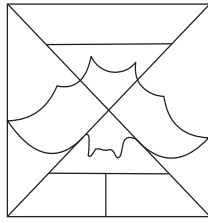
(3) 8

(4) 10

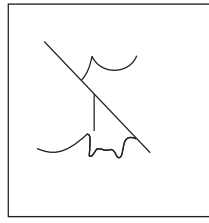
ಕೇವಲ ಕಚ್ಚಾ ಕೆಲಸಕ್ಕಾಗಿ

35. Find the hidden part of the question figure from the alternatives given.

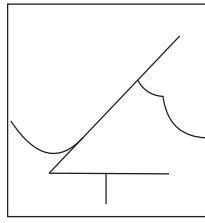
**Question Figure:**



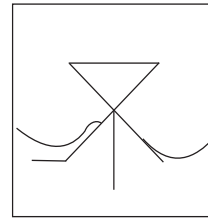
**Answer Figures:**



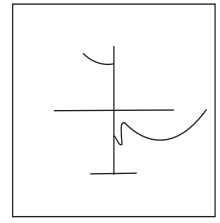
(1)



(2)



(3)



(4)

**Directions : Q. 36 to 40.**

In the following series determine the rule underlying the series and find out the term in place of the question mark.

36. 6, 6, 9, 18, 45, ?

(1) 90

(2) 145

(3) 125

(4) 135

37. 3, 8, 15, 26, 43, 68, 103, ?

(1) 150

(2) 120

(3) 206

(4) 152

38.  $\circ \times \triangle \square +$ ,  $\times \circ \triangle \square +$ ,  $\times \triangle \circ \square +$ , ?

(1)  $\times \triangle \circ + \square$

(2)  $\times \triangle \square \circ +$

(3)  $\square + \times \triangle \circ$

(4)  $\triangle \times \circ \square +$

39. YX, WU, TQ, PL, ?

(1) KE

(2) LE

(3) JE

(4) KF

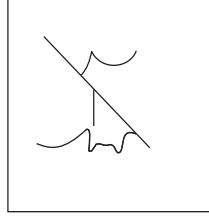
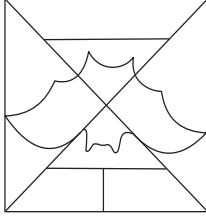
**SPACE FOR ROUGH WORK**

ABCDE	FGHIJ	KLMNO	PQRST	UVWXY
-------	-------	-------	-------	-------

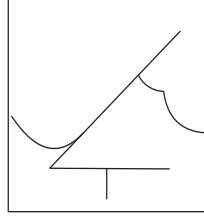
35. ಪ್ರಶ್ನಾಕೃತಿಯಲ್ಲಿ ಅಡಗಿರುವ ಆಕೃತಿಯನ್ನು ಪರ್ಯಾಯಗಳಲ್ಲಿ ಆರಿಸಿರಿ.

ಪ್ರಶ್ನೆ ಆಕೃತಿ :

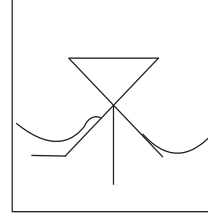
ಉತ್ತರ ಆಕೃತಿಗಳು :



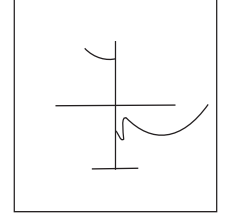
(1)



(2)



(3)



(4)

ಪ್ರಶ್ನೆ ಕ್ರಮಾಂಕ 36 ರಿಂದ 40 ರ ಸಲುವಾಗಿ ಸೂಚನೆ:

ಕೆಳಗಿನ ಮಾಲಿಕೆಯಲ್ಲಿ ಪ್ರಶ್ನೆ ಚಿಹ್ನೆಯ ಸ್ಥಳದಲ್ಲಿ ಬರುವ ಪದವನ್ನು ಪರ್ಯಾಯಗಳಿಂದ ಆರಿಸಿರಿ.

36. 6, 6, 9, 18, 45, ?

(1) 90

(2) 145

(3) 125

(4) 135

37. 3, 8, 15, 26, 43, 68, 103, ?

(1) 150

(2) 120

(3) 206

(4) 152

38.  $\circ \times \triangle \square +$ ,  $\times \circ \triangle \square +$ ,  $\times \triangle \circ \square +$ , ?

(1)  $\times \triangle \circ + \square$

(2)  $\times \triangle \square \circ +$

(3)  $\square + \times \triangle \circ$

(4)  $\triangle \times \circ \square +$

39. YX, WU, TQ, PL, ?

(1) KE

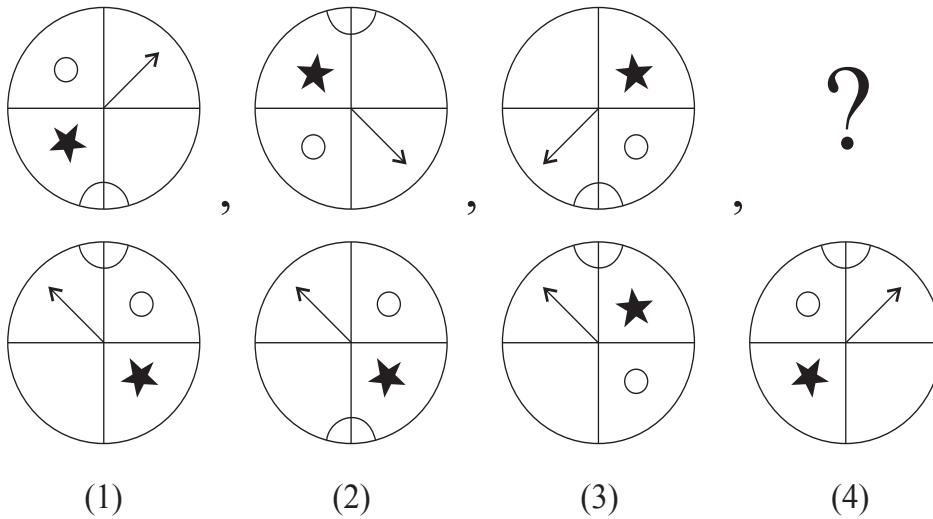
(2) LE

(3) JE

(4) KF

ಕೇವಲ ಕಚ್ಚಾ ಕೆಲಸಕ್ಕಾಗಿ

40.



41. In a queue Vihan is at 23<sup>rd</sup> position from left and Sonal is at 15<sup>th</sup> position from right. There are four boys between them. Find total number of children in the queue. [Choose two correct alternatives.]

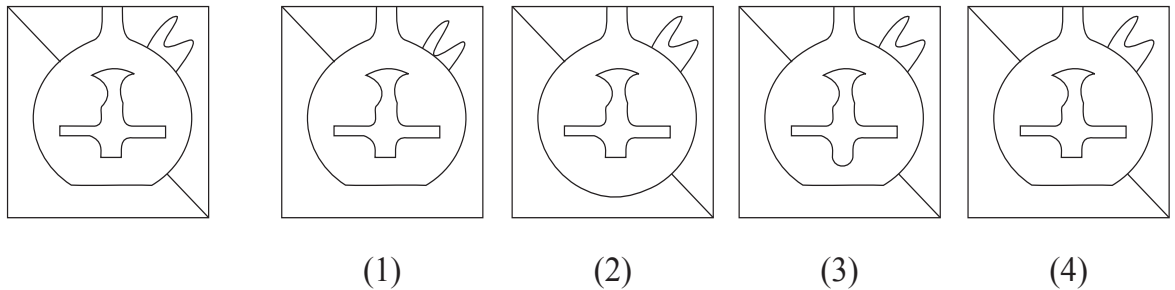
- (1) 41
- (2) 31
- (3) 32
- (4) 42

**Directions: Q. 42 and 43.**

Choose the correct figure from the alternatives given that exactly matches with the question figure.

42. **Question Figure:**

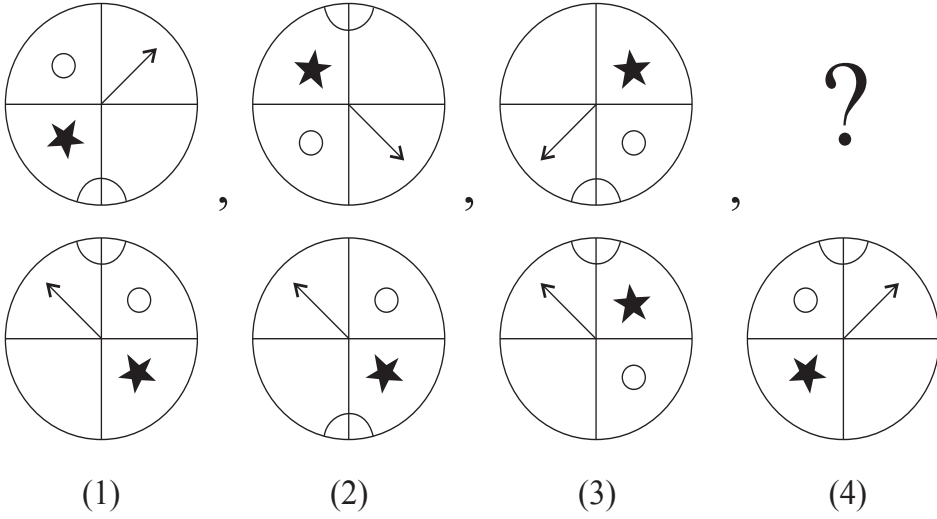
**Answer Figures:**



SPACE FOR ROUGH WORK

ABCDE	FGHIJ	KLMNO	PQRST	UVWXY
-------	-------	-------	-------	-------

40.



41. ಒಂದು ಸಾಲಿನಲ್ಲಿ ವಿಹಾನನದು ಎಡಬದಿಯಿಂದ 23ನೆಯ ಹಾಗೂ ಸೋನಲನ ಬಲಬದಿಯಿಂದ 15 ನೆಯ ಕ್ರಮಾಂಕ ಇದೆ. ಅವರಿಬ್ಬರ ನಡುವೆ ನಾಲ್ಕು ಹುಡುಗರಿದ್ದರೆ, ಆ ಸಾಲಿನಲ್ಲಿ ಒಟ್ಟು ಎಷ್ಟು ಮಕ್ಕಳಿದ್ದಾರೆ? (ಸರಿಯಾದ ಎರಡು ಪರ್ಯಾಯ ಆರಿಸಿರಿ)

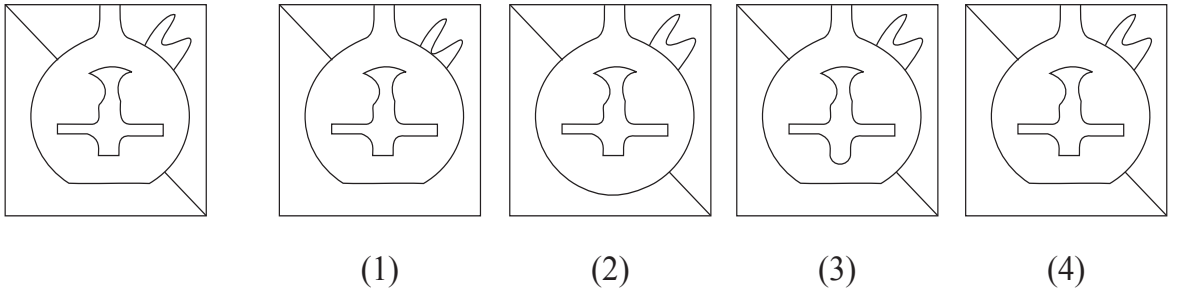
- (1) 41 (2) 31  
(3) 32 (4) 42

ಪ್ರಶ್ನೆ ಕ್ರಮಾಂಕ 42 ಹಾಗೂ 43 ರ ಸಲುವಾಗಿ ಸೂಚನೆ:

ಕೆಳಗಿನ ಪ್ರಶ್ನಾಕೃತಿಯೊಂದಿಗೆ ಸಂಪೂರ್ಣವಾಗಿ ಹೋಲುವ ಆಕೃತಿ ಗುರುತಿಸಿರಿ.

42. ಪ್ರಶ್ನೆ ಆಕೃತಿ :

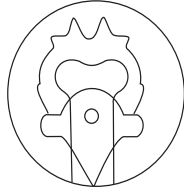

ಉತ್ತರ ಆಕೃತಿಗಳು :



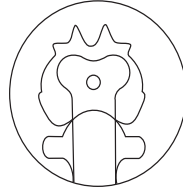
ಕೇವಲ ಕಚ್ಚಾ ಕೆಲಸಕ್ಕಾಗಿ

43. Question Figure:


Answer Figures:



(1)



(2)



(3)



(4)

44. At which position from right, will be the letter, which is at equal distance from the letters I and U; in the given alphabet series.

(1) 11<sup>th</sup> Position

(2) 12<sup>th</sup> Position

(3) 10<sup>th</sup> Position

(4) 8<sup>th</sup> Position

45. In the given alphabet series first and third groups are interchanged, similarly fifth and second groups are interchanged and a new Alphabet series is formed. Then which letter will be at the middle position between the letters Q and M in the new Alphabet series?

(1) O

(2) A

(3) X

(4) Y

Directions Q. 46 and 47.

A wooden cube is painted red on the opposite two surfaces, green on the other two opposite surfaces and blue on the remaining opposite surfaces. The wooden block is cut on all the faces thrice at equal distance. Then

46. How many cubes have only two colours red and blue?

(1) 8

(2) 12

(3) 10

(4) 4



SPACE FOR ROUGH WORK



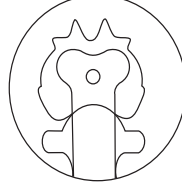
ABCDE	FGHIJ	KLMNO	PQRST	UVWXY
-------	-------	-------	-------	-------

43. ಪ್ರಶ್ನೆ ಆಕೃತಿ :


ಉತ್ತರ ಆಕೃತಿಗಳು :



(1)



(2)



(3)



(4)

44. ಅಕ್ಷರಮಾಲೆಯಲ್ಲಿಯ I ಮತ್ತು U ಈ ಅಕ್ಷರಗಳಿಂದ ಸಮಾನ ಅಂತರದಲ್ಲಿರುವ ಅಕ್ಷರವು ಬಲಬದಿಯಿಂದ ಎಷ್ಟನೇ ಕ್ರಮಾಂಕದಲ್ಲಿದೆ?

(1) 11 ನೆಯ

(2) 12 ನೆಯ

(3) 10 ನೆಯ

(4) 8 ನೆಯ

45. ಅಕ್ಷರಮಾಲೆಯಲ್ಲಿಯ ವೊದಲನೆಯ ಹಾಗೂ ಮೂರನೆಯ ಗುಂಪನ್ನು ಅದಲುಬದಲು ಮಾಡಲಾಯಿತು. ಐದನೆಯ ಹಾಗೂ ಎರಡನೆಯ ಗುಂಪನ್ನು ಅದಲುಬದಲು ಮಾಡಿದಾಗ ತಯಾರಾಗುವ ಹೊಸ ಅಕ್ಷರಮಾಲೆಯಲ್ಲಿ Q ಹಾಗೂ M ಈ ಅಕ್ಷರಗಳ ನಡುವೆ ಮಧ್ಯಭಾಗದಲ್ಲಿ ಬರುವ ಅಕ್ಷರ ಯಾವುದು?

(1) O

(2) A

(3) X

(4) Y

ಪ್ರಶ್ನೆ ಕ್ರಮಾಂಕ 46 ಹಾಗೂ 47 ರ ಸಲುವಾಗಿ ಸೂಚನೆ:

ಒಂದು ಘನಾಕೃತಿಯ ಕಟ್ಟಿಗೆಯ ತುಂಡನ್ನು ತೆಗೆದುಕೊಂಡು ಅದರ ಸಂಮುಖ ಪೃಷ್ಠಭಾಗಗಳ ಮೇಲೆ ಕೆಂಪು, ಹಸಿರು, ನೀಲಿ ಈ ರೀತಿಯಾಗಿ ಮೂರು ಬಣ್ಣ ಕೊಡಲಾಯಿತು ಮತ್ತು ಆ ತುಂಡನ್ನು ಸರ್ವ ಬದಿಯಿಂದ ಸಮಾನ ಅಂತರದಲ್ಲಿ ಮೂರು ಸಲ ಕತ್ತರಿಸಲಾಯಿತು. ಹಾಗಾದರೆ....

46. ಕೆಂಪು ಹಾಗೂ ನೀಲಿ ಈ ಎರಡೇ ಬಣ್ಣ ಇರುವ ಎಷ್ಟು ತುಂಡುಗಳು ತಯಾರಾಗುವವು?

(1) 8

(2) 12

(3) 10

(4) 4

ಕೇವಲ ಕಚ್ಚಾ ಕೆಲಸಕ್ಕಾಗಿ


ABCDE	FGHIJ	KLMNO	PQRST	UVWXY
-------	-------	-------	-------	-------

47. How many cubes have only one face painted?

- (1) 36 (2) 12  
(3) 24 (4) 30

**Directions Q. 48 to 50.**

Observe the following pyramid of numbers and choose the correct alternative that will replace the question mark in the questions that follow.



48. 25321237 : 33263137 : : 38182923 : ?

- (1) 24133916 (2) 24133539  
(3) 30362413 (4) 39351324

49. 28, 20, 38, 32, 37, 29, 16, 26, ?, ?

- (1) 13, 35 (2) 35, 21  
(3) 24, 30 (4) 21, 35

50. Choose two correct alternatives for the following question.

271912 : 311722 : : 281438 : ?

- (1) 322329 (2) 243621  
(3) 292332 (4) 373916

**SPACE FOR ROUGH WORK**

ABCDE	FGHIJ	KLMNO	PQRST	UVWXY
-------	-------	-------	-------	-------

47. ಕೇವಲ ಒಂದೇ ಬದಿಗೆ ಬಣ್ಣವಿರುವ ಎಷ್ಟು ಘನಾಕೃತಿ ತುಂಡುಗಳು ತಯಾರಾಗುವವು?
- (1) 36 (2) 12  
(3) 24 (4) 30

ಪ್ರಶ್ನೆ ಕ್ರಮಾಂಕ 48 ರಿಂದ 50 ರ ಸಲುವಾಗಿ ಸೂಚನೆ:

ಕೆಳಗಿನ ಮನೋರೇಯ ನಿರೀಕ್ಷಣೆ ಮಾಡಿ ಅವುಗಳಲ್ಲಿಯ ಅಂಕಗಳ ಮಂಡಣೆಯ ಮೇಲಿಂದ ಪ್ರಶ್ನೆ ಚಿಹ್ನೆಯ ಸ್ಥಳದಲ್ಲಿ ಬರುವ ಯೋಗ್ಯ ಪರ್ಯಾಯ ಆರಿಸಿರಿ.

			15			
			27	22		
		19	34	17		
	25	12	31	33		
	28	32	37	26	21	
	14	18	23	39	13	36
20	38	29	16	35	24	30

48. 25321237 : 33263137 :: 38182923 : ?
- (1) 24133916 (2) 24133539  
(3) 30362413 (4) 39351324
49. 28, 20, 38, 32, 37, 29, 16, 26, ?, ?
- (1) 13, 35 (2) 35, 21  
(3) 24, 30 (4) 21, 35
50. ಮೇಲಿನ ಮನೋರೇಯ ಮೇಲಿಂದ ಪ್ರಶ್ನೆ ಚಿಹ್ನೆಯ ಸ್ಥಳದಲ್ಲಿ ಬರುವ ಗುಂಪು ಗುರುತಿಸಿರಿ (ಸರಿಯಾದ ಎರಡು ಪರ್ಯಾಯ ಆರಿಸಿರಿ)
- 271912 : 311722 :: 281438 : ?
- (1) 322329 (2) 243621  
(3) 292332 (4) 373916

ಕೇವಲ ಕಚ್ಚಾ ಕೆಲಸಕ್ಕಾಗಿ

**Directions Q. 51 to 53.**

Identify the rhythmic arrangement of terms given below and find the correct term in place of the question mark.

51.

(1)

(2)

(3)

(4)

52. m n n s e m ? s e n m s e n ? m ? n n s

(1) n e n

(2) n m e

(3) n n e

(4) e s n

53. 5 2 1 ? 4 1 7 4 5 ? 4 ? 2 1 7 2 1 7 4 5

(1) 7 2 5

(2) 2 7 5

(3) 5 7 2

(4) 7 5 2

54. Health is wealth means \_\_\_\_ [Choose two correct options from the following.]

(1) Good health is the real wealth.

(2) Good health is equally important as wealth.

(3) Health and wealth are dependent on each other.

(4) Good health is enjoyed only by rich people.

**SPACE FOR ROUGH WORK**


ABCDE	FGHIJ	KLMNO	PQRST	UVWXY
-------	-------	-------	-------	-------

ಪ್ರಶ್ನೆ ಕ್ರಮಾಂಕ 51 ರಿಂದ 53 ರ ಸಲುವಾಗಿ ಸೂಚನೆ:

ಕೊಟ್ಟ ಲಯಬದ್ಧ ಮಂಡಣೆಯಲ್ಲಿಯ ಪದಗಳ ಕ್ರಮವನ್ನು ಗಮನದಲ್ಲಿ ತೆಗೆದುಕೊಂಡು ಪ್ರಶ್ನೆ ಚಿಹ್ನೆಯ ಸ್ಥಳದಲ್ಲಿ ಬರುವ ಗುಂಪನ್ನು ಪರ್ಯಾಯಗಳಿಂದ ಆರಿಸಿರಿ.

51. 

(1) 

(2) 

(3) 

(4) 

52. m n n s e m ? s e n m s e n ? m ? n n s

(1) n e n

(2) n m e

(3) n n e

(4) e s n

53. 5 2 1 ? 4 1 7 4 5 ? 4 ? 2 1 7 2 1 7 4 5

(1) 7 2 5

(2) 2 7 5

(3) 5 7 2

(4) 7 5 2

54. 'ಶುಭಮ್ ಅವರು ಕಳೆದ ವಾರದಲ್ಲಿಯೇ ದೇವರ ಪಾದ ಸೇರಿಕೊಂಡರು.' ಈ ವಾಕ್ಯದಲ್ಲಿಯ ಅಧೋರೇಖಿತ ಪಡೆನುಡಿಯ ಅರ್ಥ ಗುರುತಿಸಿರಿ. (ಸರಿಯಾದ ಎರಡು ಪರ್ಯಾಯ ಗುರುತಿಸಿರಿ)

(1) ದೈವಾದೀನರಾಗು

(2) ಲಿಂಗೈಕ್ಯರಾಗು

(3) ನಮಸ್ಕರಿಸು

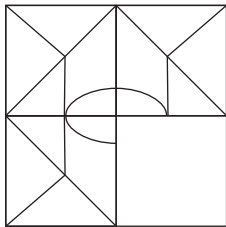
(4) ಸತ್ಕಾರಮಾಡು

ಕೇವಲ ಕಚ್ಚಾ ಕೆಲಸಕ್ಕಾಗಿ

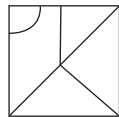
ABCDE	FGHIJ	KLMNO	PQRST	UVWXY
-------	-------	-------	-------	-------

55. The ratio of the present ages of Aashish and Aditya is 4:7. Eight years hence, the ratio of their ages will be 2:3. Find Aditya's age five years ago.
- (1) 28 years (2) 19 years  
(3) 23 years (4) 11 years
56. Ishan told Aradhya "You are the daughter of my mother's sister-in-law." How is Aradhya related to Ishan's father?
- (1) daughter (2) cousin  
(3) niece (4) maternal aunt
57. In the following number series find the odd term.  
2, 3, 6, 10, 18, 27, 54, 81, 162
- (1) 54 (2) 10  
(3) 162 (4) 242
58. Ninad walked 5m. East. Then he walked 2.25m. North. Then he turned to his right, in right angle and walked 5m. Now what will be the minimum distance from the original position?
- (1) 10.25 m (2) 10.50 m  
(3) 9.25 m (4) 12.50 m
59. Choose the correct alternative to complete the question figure.

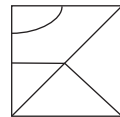
**Question Figure:**



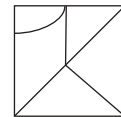
**Answer Figures:**



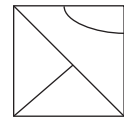
(1)



(2)



(3)



(4)

**SPACE FOR ROUGH WORK**

ABCDE	FGHIJ	KLMNO	PQRST	UVWXY
-------	-------	-------	-------	-------

55. ಆಶೀಷ ಹಾಗೂ ಆದಿತ್ಯ ಇವರ ಇಂದಿನ ವಯಸ್ಸುಗಳ ಗುಣೋತ್ತರ 4:7 ಇದೆ. 8 ವರ್ಷಗಳ ನಂತರ ಅವರ ವಯಸ್ಸುಗಳ ಗುಣೋತ್ತರ 2:3 ಆಗುವುದು. ಹಾಗಾದರೆ ಆದಿತ್ಯನ ಐದು ವರ್ಷಗಳ ಮೊದಲಿನ ವಯಸ್ಸು ಎಷ್ಟು ಇತ್ತು?

- (1) 28 ವರ್ಷಗಳು (2) 19 ವರ್ಷಗಳು  
(3) 23 ವರ್ಷಗಳು (4) 11 ವರ್ಷಗಳು

56. ಈಶಾನನ ತಾಯಿಯ ಸೊಸೆಯು ಆರಾಧ್ಯನಿಗೆ ಅತ್ತಿಗೆಯಾಗುವಳು. ಹಾಗಾದರೆ ಈಶಾನನ ತಂದೆಯೊಂದಿಗೆ ಆರಾಧ್ಯನ ಸಂಬಂಧವೇನು?

- (1) ಸಹೋದರ (2) ಮಾವ  
(3) ಮಗ (4) ಅಳಿಯ

57. ಕೆಳಗಿನ ಸಂಖ್ಯಾಮಾಲಿಕೆಯಲ್ಲಿಯ ತಪ್ಪಾದ ಪದ ಗುರುತಿಸಿರಿ.

2, 3, 6, 10, 18, 27, 54, 81, 162

- (1) 54 (2) 10  
(3) 162 (4) 242

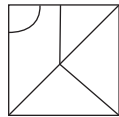
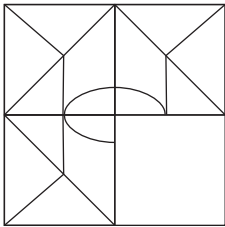
58. ನಿನಾದನು ಪೂರ್ವದಕಡೆಗೆ 5 ಮೀ ನಡೆಯುತ್ತ ಹೋದನು. ಅಲ್ಲಿಯಿಂದ ಪುನಃ ಉತ್ತರದಕಡೆಗೆ 2.25 ಮೀ ನಡೆಯುತ್ತ ಹೋದನು. ಅಲ್ಲಿ ಅವನು ಬಲಬದಿಗೆ ಕಾಟಕೋನದಲ್ಲಿ ತಿರುಗಿ 5 ಮೀ ನಡೆಯುತ್ತ ಹೋದನು. ಹಾಗಾದರೆ ಮೂಲಸ್ಥಳದಿಂದ ಅವನು ಈಗ ಕನಿಷ್ಠ ಎಷ್ಟು ಅಂತರದಲ್ಲಿದ್ದಾನೆ?

- (1) 10.25 ಮೀ (2) 10.50 ಮೀ  
(3) 9.25 ಮೀ (4) 12.50 ಮೀ

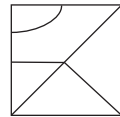
59. ಕೆಳಗಿನ ಪ್ರಶ್ನಾಕೃತಿಯನ್ನು ಪೂರ್ಣಮಾಡಲು ಯೋಗ್ಯ ಪರ್ಯಾಯ ಆರಿಸಿರಿ.

ಪ್ರಶ್ನಾಕೃತಿ :

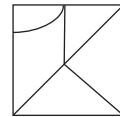
ಉತ್ತರ ಆಕೃತಿಗಳು :



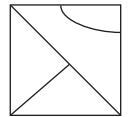
(1)



(2)



(3)



(4)

ಕೇವಲ ಕಚ್ಚಾ ಕೆಲಸಕ್ಕಾಗಿ

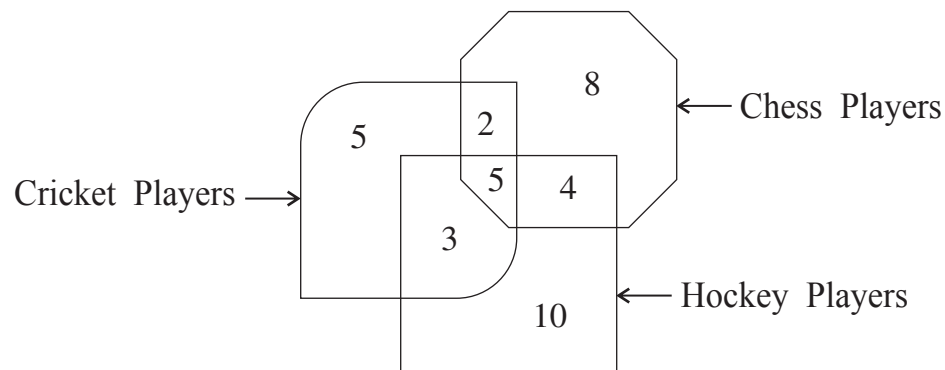
ABCDE	FGHIJ	KLMNO	PQRST	UVWXY
-------	-------	-------	-------	-------

60. In a Zoo, no animal is having any physical disability. Total number of legs of deers and ducks together is 52 and the total number of heads taken together is 19. Find the number of ducks in the Zoo.

- (1) 7 (2) 14  
(3) 10 (4) 12

**Directions Q. 61 and 62.**

The number of players playing different games in a school are given in the following Venn diagram. Observe the figure and choose the correct alternative to answer the questions that follow.



61. How many players play indoor games?

- (1) 8 (2) 19  
(3) 18 (4) 13

62. By What percentage the number of players playing only chess is more than the number of players playing all the three games.

- (1) 60% (2) 40%  
(3) 75% (4) 160%

**SPACE FOR ROUGH WORK**



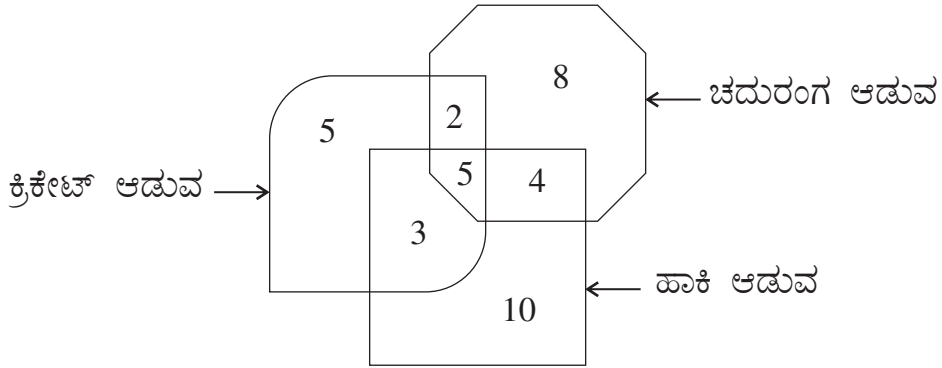
ABCDE	FGHIJ	KLMNO	PQRST	UVWXY
-------	-------	-------	-------	-------

60. ಒಂದು ಪ್ರಾಣಿ ಸಂಗ್ರಹಾಲಯದಲ್ಲಿಯ ಎಲ್ಲ ಪ್ರಾಣಿಗಳು ಅವ್ಯಂಗವಾಗಿದ್ದು, ಚಿಂಕೆ ಹಾಗೂ ಬಾತುಕೋಳಿ ಇವುಗಳ ಕಾಲುಗಳ ಸಂಖ್ಯೆ 52 ಹಾಗೂ ತಲೆಗಳ ಸಂಖ್ಯೆ 19 ಇದೆ. ಹಾಗಾದರೆ ಆ ಸಂಗ್ರಹಾಲಯದಲ್ಲಿಯ ಬಾತುಕೋಳಿಗಳ ಸಂಖ್ಯೆ ಎಷ್ಟು ಇರುವುದು?

- (1) 7 (2) 14  
(3) 10 (4) 12

ಪ್ರಶ್ನೆ ಕ್ರಮಾಂಕ 61 ಹಾಗೂ 62 ರ ಸಲುವಾಗಿ ಸೂಚನೆ:

ಕೆಳಗಿನ ವೆನ್ ಆಕೃತಿಯಲ್ಲಿ ಒಂದು ಶಾಲೆಯಲ್ಲಿಯ ಆಟಗಾರರ ಸಂಖ್ಯೆಯನ್ನು ಕೊಡಲಾಗಿದೆ. ಅದರ ನಿರೀಕ್ಷಣೆ ಮಾಡಿ ಪ್ರಶ್ನೆಗಳ ಉತ್ತರಗಳನ್ನು ಪರ್ಯಾಯದಿಂದ ಗುರುತಿಸಿರಿ.



61. ಕುಳಿತು ಆಟವಾಡುವ ಒಟ್ಟು ಆಟಗಾರರ ಸಂಖ್ಯೆ ಎಷ್ಟು?

- (1) 8 (2) 19  
(3) 18 (4) 13

62. ಕೇವಲ ಚದುರಂಗ ಆಟ ಆಡುವವರ ಸಂಖ್ಯೆಯು ಮೂರೂ ಆಟ ಆಡುವ ಆಟಗಾರರ ಸಂಖ್ಯೆಗಿಂತ ಎಷ್ಟು ಶೇಕಡಾ ಹೆಚ್ಚಿಗೆ ಇದೆ?

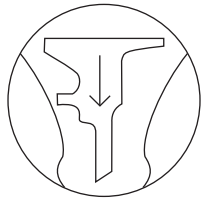
- (1) 60% (2) 40%  
(3) 75% (4) 160%

ಕೇವಲ ಕಚ್ಚಾ ಕೆಲಸಕ್ಕಾಗಿ

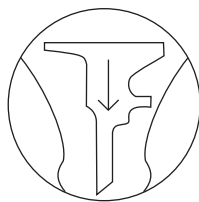
**Directions Q. 63 and 64.**

Identify the water reflection of the question figure from the given alternatives.


**63. Question Figure:**




**Answer Figures:**



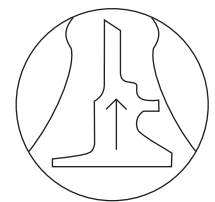
(1)



(2)



(3)



(4)

**64. Question Figure:**



**Answer Figures:**



(1)



(2)



(3)



(4)

**Directions Q. 65 to 69.**

In each of the following questions relation between the third and the fourth term is the same as that between the first and the second term. Find the term to replace the question mark.

**65.** 23 : 49 :: 41 : ? (Select two correct alternatives)

(1) 161

(2) 125

(3) 85

(4) 92

**66.** Gold : Au :: Silver : ?

(1) Ag

(2) Al

(3) Fe

(4) Cu

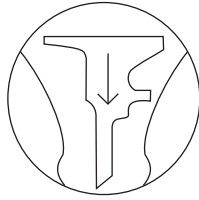
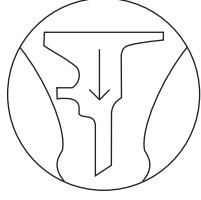
**SPACE FOR ROUGH WORK**

ಪ್ರಶ್ನೆ ಕ್ರಮಾಂಕ 63 ಹಾಗೂ 64 ರ ಸಲುವಾಗಿ ಸೂಚನೆ:


ಕೆಳಗಿನ ಪ್ರಶ್ನಾಕೃತಿಯ ನೀರಿನಲ್ಲಿಯ ಪ್ರತಿಬಿಂಬವನ್ನು ಪರ್ಯಾಯಗಳಿಂದ ಆರಿಸಿರಿ.

63. ಪ್ರಶ್ನಾಕೃತಿ :


ಉತ್ತರ ಆಕೃತಿಗಳು :



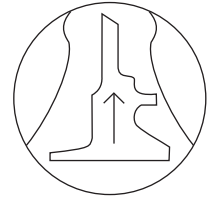
(1)



(2)




(3)



(4)

64. ಪ್ರಶ್ನಾಕೃತಿ :

ಉತ್ತರ ಆಕೃತಿಗಳು :



(1)



(2)



(3)



(4)

ಪ್ರಶ್ನೆ ಕ್ರಮಾಂಕ 65 ರಿಂದ 69 ರ ಸಲುವಾಗಿ ಸೂಚನೆ:

ಮೊದಲನೆಯ ಹಾಗೂ ಎರಡನೆಯ ಪದಗಳಲ್ಲಿ ಯಾವ ರೀತಿ ಸಂಬಂಧವಿದೆಯೋ ಅದೇ ರೀತಿ ಸಂಬಂಧ ಮೂರನೆಯ ಹಾಗೂ ನಾಲ್ಕನೆಯ ಪದಗಳಲ್ಲಿ ಇದೆ. ಇದನ್ನು ಗಮನದಲ್ಲಿಟ್ಟುಕೊಂಡು ಪ್ರಶ್ನೆ ಚಿಹ್ನೆಯ ಸ್ಥಳದಲ್ಲಿ ಬರುವ ಯೋಗ್ಯ ಪರ್ಯಾಯ ಗುರುತಿಸಿರಿ.

65. 23 : 49 :: 41 : ? (ಸರಿಯಾದ ಎರಡು ಪರ್ಯಾಯ ಆರಿಸಿರಿ)

(1) 161

(2) 125

(3) 85

(4) 92

66. ಬಂಗಾರ : Au :: ಬೆಳ್ಳಿ : ?

(1) Ag

(2) Al

(3) Fe

(4) Cu


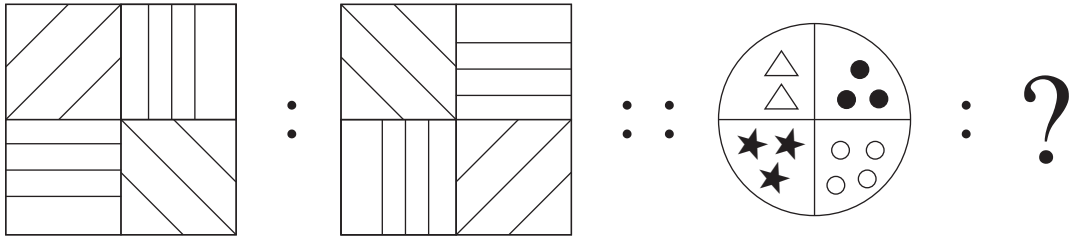
ಕೇವಲ ಕಚ್ಚಾ ಕೆಲಸಕ್ಕಾಗಿ

67. Mango : Fruit :: Ginger : ?

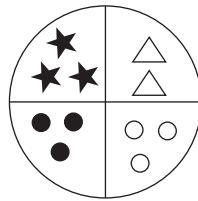
- (1) Leaf
- (3) Stem

- (2) Root
- (4) Vegetable

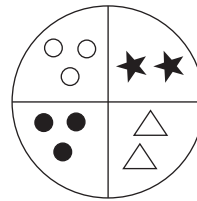
68.



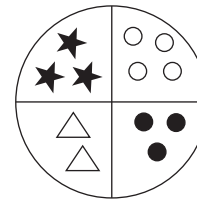
(1)



(2)



(3)



(4)

69. DH : N :: BF : ? (Choose two correct alternatives)

- (1) I
- (3) W

- (2) R
- (4) J

**Directions Q. 70 and 71.**

In a certain code language the word HAD is written as 532, SHE is written as 145 and DIE is written as 391.

70. How will you write the word HIS in the same code language?

- (1) 354
- (3) 594

- (2) 294
- (4) 539

71. Which of the following word will be formed by the code 4293?

- (1) DEAD
- (3) PAID

- (2) HEAD
- (4) SAID

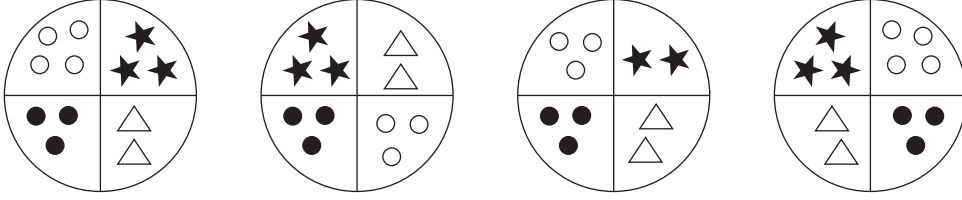
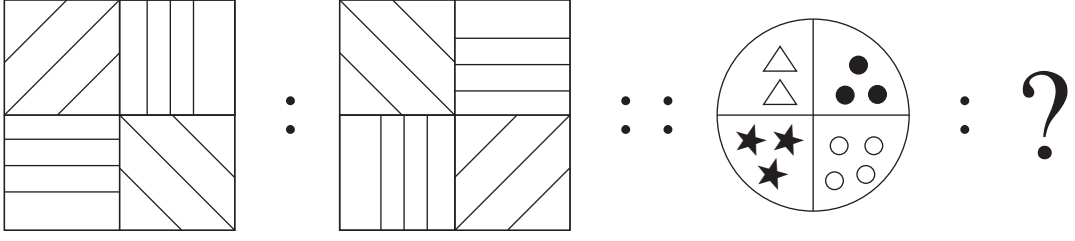
SPACE FOR ROUGH WORK

ABCDE	FGHIJ	KLMNO	PQRST	UVWXY
-------	-------	-------	-------	-------

67. ವಸಂತ : ವರ್ಷಾ : : ಗ್ರೀಷ್ಮ : ?

- (1) ಅನಂತ (2) ಹೇಮಂತ  
(3) ಶರದ (4) ಶಿಶಿರ

68.



- (1) (2) (3) (4)

69. DH : N : : BF : ? (ಸರಿಯಾದ ಎರಡು ಪರ್ಯಾಯ ಆರಿಸಿರಿ)

- (1) I (2) R  
(3) W (4) J

ಪ್ರಶ್ನೆ ಕ್ರಮಾಂಕ 70 ಹಾಗೂ 71 ರ ಸಲುವಾಗಿ ಸೂಚನೆ:

ಒಂದು ಸಾಂಕೇತಿಕ ಭಾಷೆಯಲ್ಲಿ 'ಹರೀಶ' ಈ ಶಬ್ದ 7458, 'ಶೀತಲ' ಈ ಶಬ್ದ 3786 ಮತ್ತು 'ರತೀಬ' ಈ ಶಬ್ದವನ್ನು 5826 ಎಂದು ಬರೆಯುವರು ಹಾಗಾದರೆ....

70. 'ದಂಡೆ' ಈ ಶಬ್ದದ ಸಮಾನ ಅರ್ಥ ಕೊಡುವ ಶಬ್ದವನ್ನು ಯಾವ ಸಾಂಕೇತಿಕ ಅಂಕಿಗಳಿಂದ ದರ್ಶಿಸಲಾಗುವುದು?

- (1) 683 (2) 745  
(3) 685 (4) 785

71. 2785 ಈ ಸಾಂಕೇತಿಕ ಅಂಕಿಗಳಿಂದ ತಯಾರಾಗುವ ಶಬ್ದ ಯಾವುದು?

- (1) ಬತೀರ (2) ಹೀರಕ  
(3) ಬಹಾರ (4) ಬಶೀರ

ಕೇವಲ ಕಚ್ಚಾ ಕೆಲಸಕ್ಕಾಗಿ

ABCDE	FGHIJ	KLMNO	PQRST	UVWXY
-------	-------	-------	-------	-------

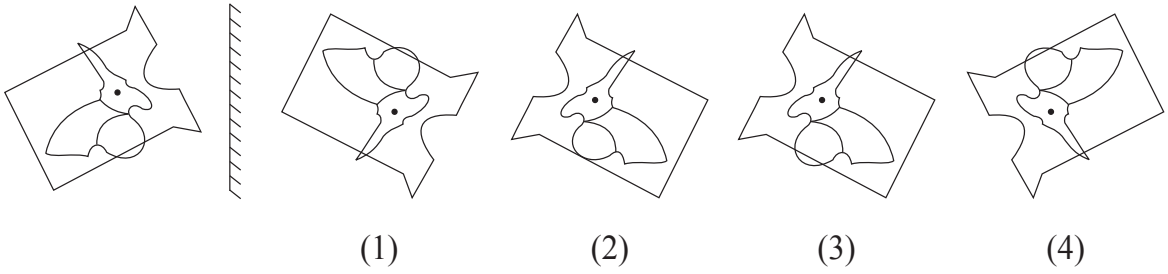
72. In a certain code language COT is written as ELV, SUN is written as URP. How will you write the word PIG in the same code language?

- (1) RFI
- (2) RHI
- (3) RGI
- (4) QJH

73. Identify the correct mirror image of the question figure from the alternatives given.

**Question Figure:**

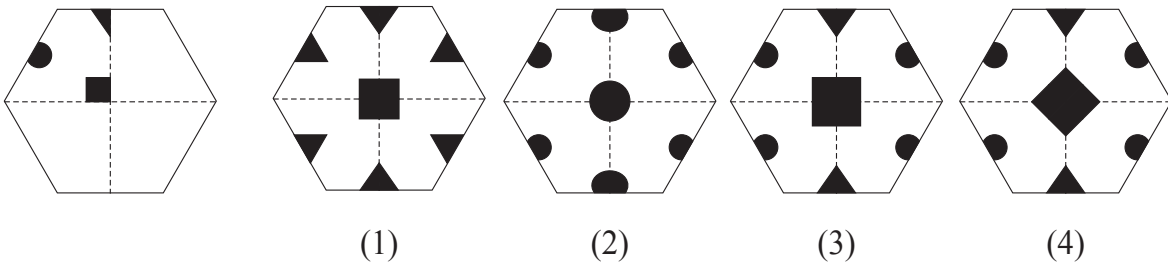
**Answer Figures:**



74. The paper as shown in the question figure is folded and shaded region is cut as shown in the question figure. How will the figure look like when the paper is unfolded. Choose the correct option.

**Question Figure:**

**Answer Figures:**



75. In a certain year, Environment Day falls on Friday. Then on which day Children's Day will fall in the same year?

- (1) Monday
- (2) Sunday
- (3) Thursday
- (4) Saturday

SPACE FOR ROUGH WORK

ABCDE	FGHIJ	KLMNO	PQRST	UVWXY
-------	-------	-------	-------	-------

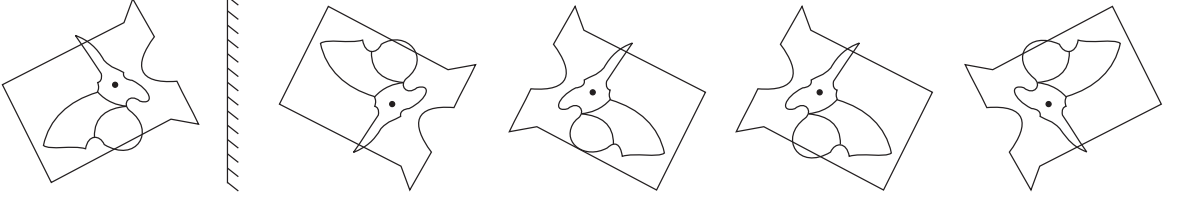
72. ಒಂದು ಸಾಂಕೇತಿಕ ಭಾಷೆಯಲ್ಲಿ COT ಗೆ ELV ಎಂದು ಬರೆಯುವರು, SUN ಗೆ URP ಎಂದು ಬರೆಯುವರು, ಹಾಗಾದರೆ PIG ಈ ಶಬ್ದವನ್ನು ಹೇಗೆ ಬರೆಯುವರು?

- (1) RFI (2) RHI  
(3) RGI (4) QJH

73. ಕೆಳಗಿನ ಪ್ರಶ್ನಾಕೃತಿಯ ಕನ್ನಡಿಯಲ್ಲಿಯ ಪ್ರತಿಬಿಂಬವನ್ನು ಪರ್ಯಾಯದಿಂದ ಆರಿಸಿರಿ.

ಪ್ರಶ್ನಾಕೃತಿ :

ಉತ್ತರ ಆಕೃತಿಗಳು :

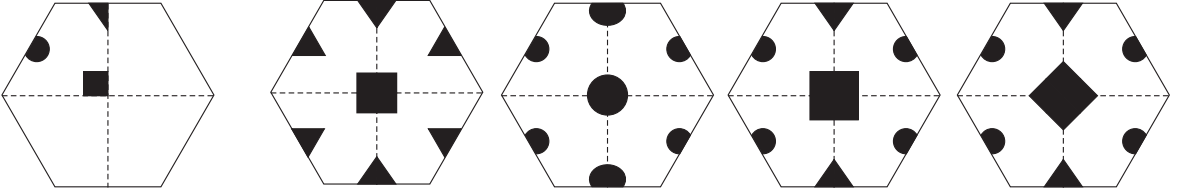


- (1) (2) (3) (4)

74. ಕೆಳಗಿನ ಪ್ರಶ್ನಾಕೃತಿಯಲ್ಲಿಯ ಕಾಗದಕ್ಕೆ ಮಡಿಕೆ ಹಾಕಿ ಛಾಯಾಂಕಿತ ಮಾಡಿದ ಸ್ಥಳದಲ್ಲಿ ಕತ್ತರಿಸಿ ತೆರೆಯಲಾಗಿ ಅದರ ಆಕಾರ ಪರ್ಯಾಯದಲ್ಲಿಯ ಯಾವ ಆಕೃತಿಯಂತೆ ಕಾಣಿಸುವುದು?

ಪ್ರಶ್ನಾಕೃತಿ :

ಉತ್ತರ ಆಕೃತಿಗಳು :



- (1) (2) (3) (4)

75. ಪರ್ಯಾವರಣ ದಿವಸ ಶುಕ್ರವಾರ ಇದ್ದರೆ ಅದೇ ವರ್ಷದಲ್ಲಿಯ ಮಕ್ಕಳ ದಿನಾಚರಣೆ ಯಾವ ದಿವಸ ಇರುವುದು?

- (1) ಸೋಮವಾರ (2) ರವಿವಾರ  
(3) ಗುರುವಾರ (4) ಶನಿವಾರ

ಕೇವಲ ಕಚ್ಚಾ ಕೆಲಸಕ್ಕಾಗಿ

ಕೇವಲ ಕಚ್ಚಾ ಕೆಲಸಕ್ಕಾಗಿ